


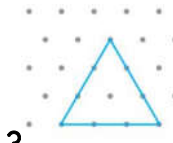
1. **Milyet?**

- A) 4 B) 3
C) 2 D) 5



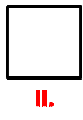
2. **Milyet?**

- A) 1 B) 2
C) 3 D) 4



3. **Milyet?**

- A) 1 B) 2
C) 3 D) 4




4. Yandaki şekillerden hangisinin simetrisi en fazladır?

- A) I B) II
C) III D) IV



5. Yandaki şeklin kaç tane simetri doğrusu vardır?

- A) 4 B) 5
C) 3 D) 2



6. Yandaki görsel üzerine çizilen simetri doğrularından hangisi doğrudur?

- A) I B) II
C) III D) IV



7. Yandaki görsellerden hangisinin simetri doğrusu yoktur?

- A) I
B) II
C) III
D) IV

8. Aşağıdaki harflerden hangisinin simetri doğrusu yoktur?

- A) P
B) A
C) D
D) E

9. Aşağıdaki harflerden hangisinin simetri doğrusu yoktur?

- A) Z
B) V
C) Y
D) T

10. Aşağıdaki harflerden hangisinin simetri doğrusu yoktur?

- A) H
B) F
C) M
D) K

11. Aşağıdaki harflerden hangisinin simetri doğrusu yoktur?

- A) O
B) Ö
C) Ç
D) C

12. Aşağıdaki rakamlardan hangisinin simetri doğrusu yoktur?

- A) 8
B) 0
C) 3
D) 7