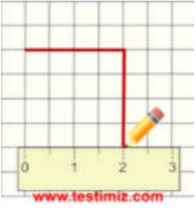


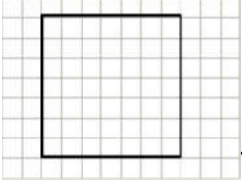
1. 7 cm Yukarıda verilen karenin çevresi kaç cm'dir?

- A) 28 cm B) 42 cm
C) 49 cm D) 14 cm



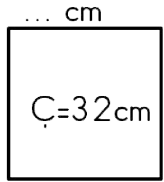
2. Yukarıda çizimi verilen karenin çevresi kaç cm olur?

- A) 12 cm B) 8 cm
C) 16 cm D) 4 cm



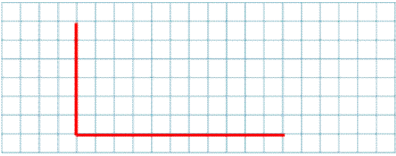
3. Yukarıda verilen karenin çevresi kaç birimdir?

- A) 14 br B) 7 br
C) 28 br D) 21 br



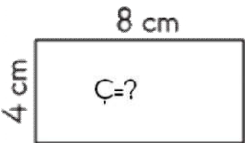
4. Yukarıdaki karenin bir kenarı kaç cm'dir?

- A) 4 cm B) 16 cm
C) 10 cm D) 8 cm



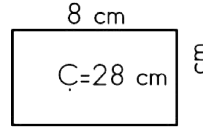
5. Verilen şekli dikdörtgen oluşturacak şekilde tamamlarsak çevresi kaç birim olur?

- A) 34 br B) 24 br
C) 42 br D) 17 br



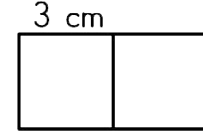
6. Yukarıdaki dikdörtgenin çevresi kaç cm'dir?

- A) 24 cm B) 18 cm
C) 12 cm D) 20 cm



7. Yukarıda çevresi ve uzun kenarı verilen dikdörtgenin kısa kenarı kaç cm'dir?

- A) 8 cm B) 6 cm
C) 12 cm D) 14 cm



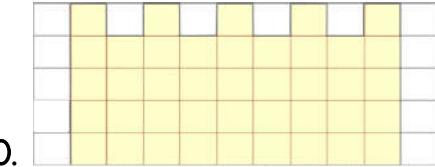
8. Bir kenarı 3 cm olan iki kare yan yana getirilerek oluşturulan dikdörtgenin çevresi kaç cm olur?

- A) 21 cm B) 18 cm
C) 36 cm D) 24 cm



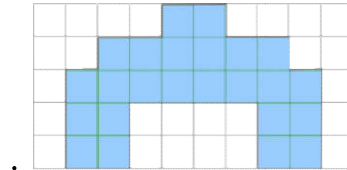
9. Yukarıda çizimi verilen dikdörtgenin çevresi kaç cm'dir?

- A) 20 cm B) 25 cm
C) 10 cm D) 5 cm



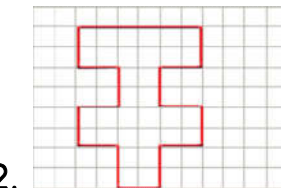
10. Yukarıdaki şeklin çevresi kaç birimdir?

- A) 32 br B) 42 br
C) 36 br D) 27 br



11. Şeklin çevresi kaç birimdir?

- A) 32 br B) 36 br
C) 28 br D) 30 br



12. Yukarıdaki şeklin çevresi kaç birimdir?

- A) 48 br B) 26 br
C) 24 br D) 36 br