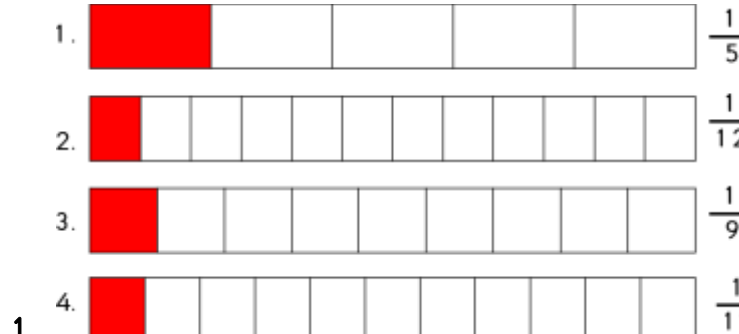
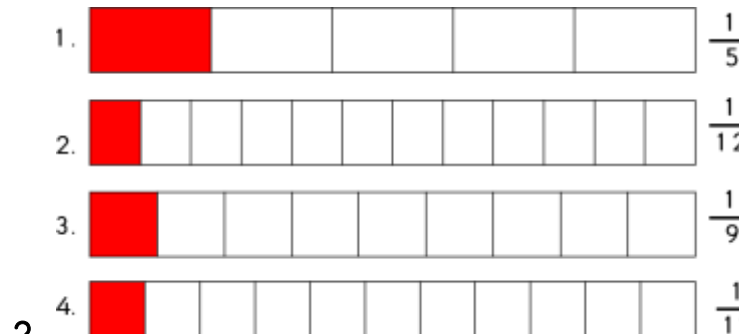
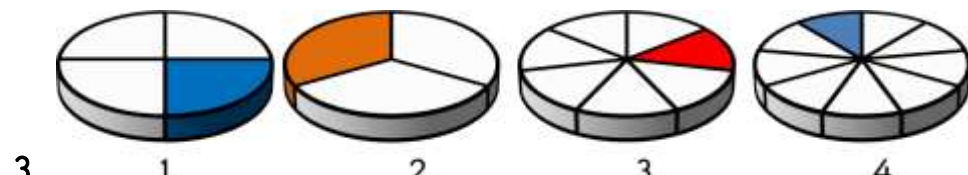


Etkileşimli Eğitim

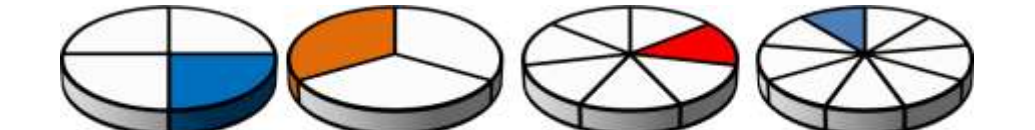
Birim Kesirleri Sıralama

1.  $\frac{1}{5}$
2. $\frac{1}{12}$
3. $\frac{1}{9}$
4. $\frac{1}{11}$ Yanda verilen birim kesirlerden hangisi en büyüktür?
A) 1. B) 2. C) 3. D) 4.

1.  $\frac{1}{5}$
2. $\frac{1}{12}$
3. $\frac{1}{9}$
4. $\frac{1}{11}$ Yanda verilen birim kesirlerden hangisi en küçüktür?
A) 1. B) 2. C) 3. D) 4.

3.  1. 2. 3. 4.
Yanda verilen kesirlerin küçükten büyüğe doğru sıralanışı hangisidir?
A) 1 < 2 < 4 < 3 B) 2 < 1 < 3 < 4
C) 4 < 3 < 1 < 2 D) 1 < 2 < 3 < 4

1.  $\frac{1}{5}$
2. $\frac{1}{12}$
3. $\frac{1}{9}$
4. $\frac{1}{11}$ Yanda verilen birim kesirlerin büyükten küçüğe doğru sıralanışı hangisidir?
A) 1. > 3. > 4. > 2. B) 2. > 3. > 4. > 1.
C) 1. > 2. > 4. > 3. D) 1. > 4. > 3. > 2.

5.  1. 2. 3. 4.
Yanda verilen birim kesirlerin büyükten küçüğe doğru sıralanışı hangisidir?
A) 1 < 2 < 4 < 3 B) 2 < 1 < 3 < 4
C) 4 < 3 < 1 < 2 D) 1 < 2 < 3 < 4

6. $\frac{5}{6}, \frac{3}{8}, \frac{2}{3}, \frac{1}{2}$ Yandaki kesirleri karşılaştırdığımızda en küçük kesir hangisi olur?
A) $\frac{5}{6}$ B) $\frac{3}{8}$ C) $\frac{2}{3}$ D) $\frac{1}{2}$

7. $\frac{17}{28}, \frac{17}{31}, \frac{17}{23}$ kesirleri küçükten büyüğe doğru sıralanışı hangisidir?

A) $\frac{17}{28} < \frac{17}{23} < \frac{17}{31}$

B) $\frac{17}{31} < \frac{17}{23} < \frac{17}{28}$

C) $\frac{17}{28} < \frac{17}{31} < \frac{17}{23}$

D) $\frac{17}{31} < \frac{17}{28} < \frac{17}{23}$

8. $\frac{3}{7} > \frac{a}{b} > \frac{2}{7}$ ise $\frac{a}{b}$ aşağıdakilerden hangisi olabilir?

A) $\frac{6}{7}$ B) $\frac{5}{7}$ C) $\frac{9}{14}$ D) $\frac{5}{14}$

9. Aşağıdaki kesir sıralamalarından hangisi doğrudur?

A) $\frac{1}{5} > \frac{2}{5} > \frac{3}{5} > \frac{4}{5}$

B) $\frac{5}{4} < \frac{5}{5} < \frac{5}{7} < \frac{5}{8}$

C) $\frac{1}{4} < \frac{1}{2} < \frac{4}{5} < \frac{3}{2}$

D) $\frac{6}{5} > \frac{8}{4} > \frac{4}{7} > \frac{5}{2}$

10. $\frac{3}{6}, \frac{3}{7}, \frac{3}{4}, \frac{3}{3}$ kesirlerinin büyükten küçüğe doğru sıralanışı aşağıdakilerden hangisidir?

A) $\frac{3}{3} > \frac{3}{4} > \frac{3}{6} > \frac{3}{7}$

B) $\frac{3}{7} < \frac{3}{6} < \frac{3}{4} < \frac{3}{3}$

C) $\frac{3}{3} > \frac{3}{6} > \frac{3}{4} > \frac{3}{7}$

D) $\frac{3}{7} > \frac{3}{6} > \frac{3}{3} > \frac{3}{4}$