



1. Aşağıdakilerden hangisi nokta modeli değildir?


- A) Dünya
- B) Ay
- C) Güneş
- D) Yörünge

2. Nokta ile ilgili aşağıdakilerden hangisi doğru değildir?

- A) Noktanın eni, boyu ve derinliği yoktur.
- B) Nokta büyük harfle adlandırılır.
- C) İki nokta arası ışın olarak adlandırılır.
- D) Kalemın kâğıda veya tahtaya bir defa dokunması ile meydana gelen iz bir nokta modelidir.

3. İki nokta arasını düz ve hiç boşluk kalmayacak biçimde noktalarla doldurursanız ortaya nasıl bir şekil çıkar?


- A) Doğru parçası
- B) Işın
- C) Doğru
- D) Düzlem

4.  Yandaki şekil ile ilgili aşağıdaki bilgilerden hangisi doğru değildir?

- A) Doğru parçasıdır.
- B) AB veya BA şeklinde gösterilir
- C) AB doğru parçası veya BA doğru parçasıdır.
- D) [AB] veya [BA] şeklinde gösterilir.

5. İki nokta arasında düz bir şekilde hizalanmış noktaların oluşturduğu şekle ne ad verilir?

- A) Nokta
- B) Işın
- C) Doğru
- D) Doğru parçası

6.  Yandaki şeklin adlandırılışı ile ilgili hangisi doğru değildir?


- A) \overline{YZ}
- B) [YZ]
- C) YZ
- D) YZ doğru parçası

7. Bir noktadan başlayarak aynı hizada sonsuza kadar giden noktaların oluşturduğu şekle ne denir?

- A) Nokta
- B) Işın
- C) Doğru
- D) Doğru parçası

8.  Yandaki şeklin sembolle gösterimi hangisidir?

- A) [A
- B) [AB
- C) AB
- D) [AB]

9.  Yandaki şekille ilgili hangisini söylemek doğru olur?


- A) E ışını
- B) D ışını
- C) DE ışını
- D) ED ışını

10. İki ucu da sonsuza kadar giden düz bir şekilde hizalanmış noktaların oluşturduğu şekle ne denir?

- A) Nokta
- B) Işın
- C) Doğru
- D) Doğru parçası

11.  Yandaki şeklin gösterimi ile ilgili hangisi doğrudur?

- A) [A
- B) [AB
- C) AB
- D) [AB]

12.  Yandaki şekille ilgili hangisini söylemek doğru olur?

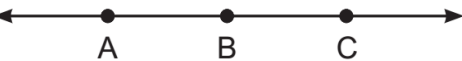
- A) GH doğrusu
- B) GH ışını
- C) G doğrusu
- D) GH doğru parçası

13. [KL şeklinde gösterilen temel geometrik şekil hangisidir?

- A) Nokta
- B) Işın
- C) Doğru
- D) Doğru parçası

14. [PR şeklinde gösterilen temel geometrik şekil hangisidir?

- A) Nokta
- B) Işın
- C) Doğru
- D) Doğru parçası

15.  Yandaki şekille ilgili hangisini söylemek doğru olmaz?

- A) BC ışını
- B) BA ışını
- C) ABC doğrusu
- D) AC doğru parçası

Adı :.....

Notu:

1	A	B	C	D
2	A	B	C	D
3	A	B	C	D
4	A	B	C	D
5	A	B	C	D
6	A	B	C	D
7	A	B	C	D
8	A	B	C	D
9	A	B	C	D
10	A	B	C	D
11	A	B	C	D
12	A	B	C	D
13	A	B	C	D
14	A	B	C	D
15	A	B	C	D
16	A	B	C	D
17	A	B	C	D
18	A	B	C	D
19	A	B	C	D
20	A	B	C	D