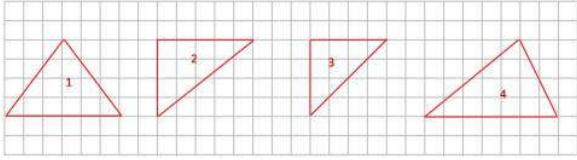




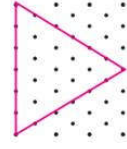
- A) Geniş açılı üçgen.
B) İkiz açılı üçgen.
C) Dik açılı üçgen.
D) Dar açılı üçgen.



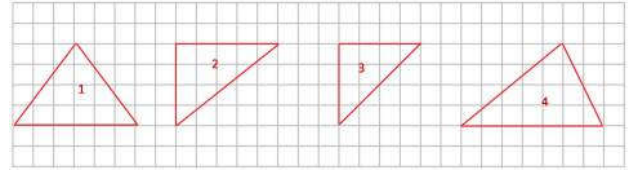
- Şekillerdeki üçgenlerle ilgili aşağıdaki eşleştirmelerden hangisi yanlıştır?
A) 1 Dar açılı üçgen
B) 4 Dar açılı üçgen
C) 3 Geniş açılı üçgen
D) 2 Dik açılı üçgen

3. Aşağıdaki üçgenlerden hangisi çizilemez?
A) Hem ikizkenar hem dar açılı üçgen
B) Hem çeşitkenar hem dik açılı üçgen
C) Hem ikizkenar hem dik açılı üçgen
D) Hem eşkenar hem geniş açılı üçgen

4. Üçgenin iç açılarının toplamı kaç derecedir?
A) 180°
B) 360°
C) 90°
D) 480°



- Yandaki üçgenin çeşidi hangisidir?
A) Çeşitkenar üçgen
B) İkizkenar üçgen
C) Eş kenar üçgen
D) Çok kenar üçgen



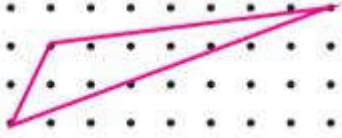
- Yukarıdaki üçgenlerle ilgili aşağıdakilerden hangisi yanlıştır?
A) 2 Çeşitkenar üçgen
B) 3 İkizkenar üçgen
C) 1 İkizkenar üçgen
D) 4 Çokkenar üçgen

7. Eşkenar üçgenlerin bir açısı kaç derece olur?
A) 180
B) 60
C) 90
D) 50

8. Aşağıdakilerden hangisi kenarlarına göre bir üçgen çeşidi değildir?
A) Çeşitkenar üçgen.
B) Eşkenar üçgen.
C) Dik açılı üçgen.
D) İkizkenar üçgen.

9. Farklı olan açısı 80 derece olan bir ikizkenar üçgenin diğer açlarından biri kaç derecedir?

- A) 90
- B) 60
- C) 100
- D) 50



10. Şekildeki üçgenin açlarına göre çeşidi hangisidir?

- A) İkiz açılı üçgen.
- B) Dik açılı üçgen.
- C) Geniş açılı üçgen.
- D) Dar açılı üçgen.

11. Aşağıdakilerden hangisi açlarına göre bir üçgen çeşidi değildir?

- A) Dik açılı üçgen.
- B) Dar açılı üçgen.
- C) İkiz açılı üçgen.
- D) Geniş açılı üçgen.



12. Şekildeki üçgenin açlarına göre çeşidi hangisidir?

- A) Geniş açılı üçgen.
- B) İkiz açılı üçgen.
- C) Dik açılı üçgen.
- D) Dar açılı üçgen.

Adı :.....
Notu:

1	A	B	C	D
2	A	B	C	D
3	A	B	C	D
4	A	B	C	D
5	A	B	C	D
6	A	B	C	D
7	A	B	C	D
8	A	B	C	D
9	A	B	C	D
10	A	B	C	D
11	A	B	C	D
12	A	B	C	D