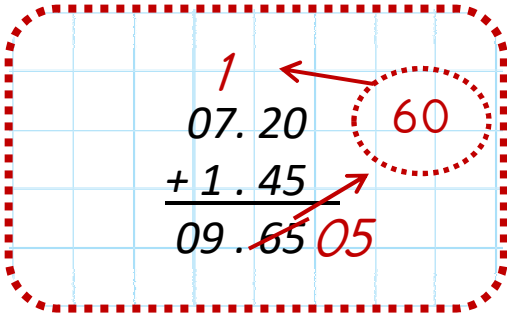





1. Aşağıdaki işlemleri örnekteki gibi yapalım.

$$07.20 + 1 \text{ saat } 45 \text{ dakika}$$




$$\begin{array}{r} 07.20 \\ + 1.45 \\ \hline 09.65 \end{array} \rightarrow 09.05$$


$$09.15 + 2 \text{ saat } 35 \text{ dakika}$$




$$11.40 + 1 \text{ saat } 30 \text{ dakika}$$




$$12.50 + 3 \text{ saat } 25 \text{ dakika}$$



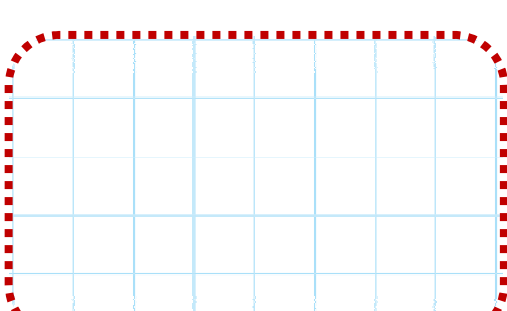
$$13.10 + 3 \text{ saat } 55 \text{ dakika}$$



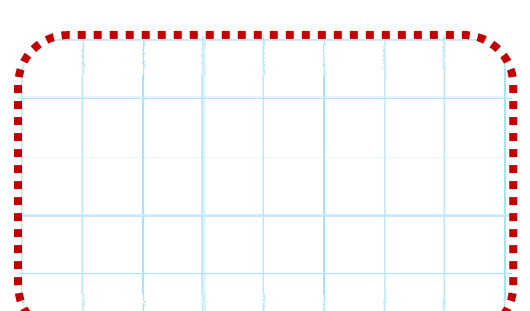
$$15.30 + 1 \text{ saat } 45 \text{ dakika}$$




$$16.05 + 2 \text{ saat } 05 \text{ dakika}$$




$$17.50 + 2 \text{ saat } 15 \text{ dakika}$$



$$19.50 + 3 \text{ saat } 35 \text{ dakika}$$



$$23.10 + 2 \text{ saat } 25 \text{ dakika}$$



2. Aşağıdaki işlemleri örnekteki gibi yapalım.

07.20 - 1 saat 45 dakika

$$\begin{array}{r} 6 \ 80 \\ \cancel{07.20} \\ - 1.45 \\ \hline 05.35 \end{array}$$

09.15 - 2 saat 35 dakika

11.40 - 1 saat 30 dakika

12.50 - 3 saat 25 dakika

13.10 - 3 saat 55 dakika

15.30 - 1 saat 45 dakika

16.05 - 2 saat 05 dakika

17.50 - 2 saat 15 dakika

19.50 - 3 saat 35 dakika

23.10 - 2 saat 25 dakika

3. Aşağıdaki problemleri çözerek şifreyi bulunuz.

1. 19.20'in 2 saat 35 dakika sonrası kaçtır.

M

2. 23.25'in 5 saat 35 dakika öncesi kaçtır.

L

3. 21.10'un 3 saat 35 dakika öncesi kaçtır.

N

4. 14.50'nin 2 saat 35 dakika sonrası kaçtır.

M

5. Saat 15.30'da başlayan maç tam 1 saat 45 dakika sürdü. Acaba maç saat kaçta bitmiştir?

Z

6. Saat 16.15'de başlayan yağmur 2 saat 25 dakika sürdü. Acaba yağmur saat kaçta bitmiştir?



7. Saat 17.35'de başlayan yolculuğumuz 3 saat 55 dakika sürdü. Acaba yolculuğumuz saat kaçta bitmiştir?

[illegible]

8. Saat 21.30'da biten konferans 3 saat 45 dakika sürdü. Acaba konferans saat kaçta başlamıştır?



9. Saat 21 .25’de biten tiyatro oyunu 1 saat 45 dakika sürdü. Acaba tiyatro saat kaçta başlamıştır?

[illegible]

10. Saat 16.25'de biten film 1 saat 55 dakika sürdü. Acaba film saat kaçta başlamıştır?

A large sheet of graph paper with a red dashed circle and the letter 'A' on the left side.

	17.15
	14.30
	17.25
	19.40
	17.35
	18.20
	17.50
	18.40
	21.55
	21.30