




Soldaki paraları bütünleyip sağdaki paralarla eşleştiriniz.



Aşağıdaki paraların kaç TL olduğunu yazalım.



 Aşağıda kantinde satılan bazı ürünler ve fiyatları verilmiştir. Aldıklarımıza kaç TL ödediğimizi bulalım.



1 TL



4 TL



3 TL



2 TL



1 TL




2 TL



25 kr



50 kr




Toplam:



Toplam:



Toplam:




Toplam:



Toplam:



Toplam:


 Aşağıdaki soruları görsellere göre cevaplayalım.



1 TL



4 TL



3 TL



2 TL



1 TL



2 TL



25 kr



50 kr

1. Bir defter ve iki kalem alan Ege kaç TL verir?
2. 10 TL parası olan Efe sandviç ile süt alırsa kaç TL parası kalır?
3. Simit, çikolata ve iki tane şeker alan Beren kaç TL verir?
4. 8 TL parası olan Çınar, defter, kalem tıraş ve kalem alıyor. Kaç TL parası kalır?