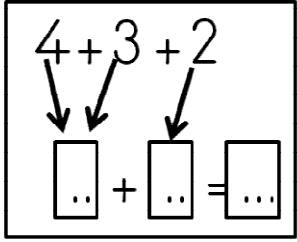


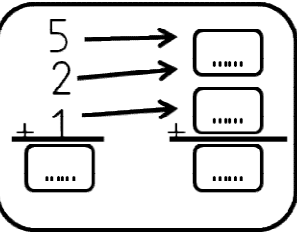
1. Yukarıda modellenen toplama işlemi hangisidir?

- A)  $5+4$       B)  $5+3$       C)  $5+5$



2. Yukarıdaki işlemin sonucu hangisidir?

- A) 7      B) 5      C) 9

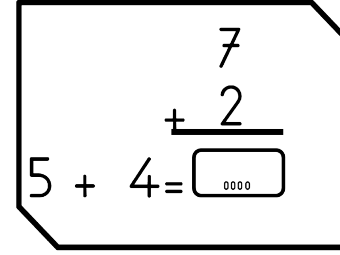


Yandaki işlemin sonucu hangisidir?

3. A) 7      B) 8      C) 9

4. Aşağıdaki işlemlerden hangisinin sonucu yanlıştır?

- A)  $2 + 4 + 4 = 10$   
 B)  $3 + 3 + 3 = 9$   
 C)  $2 + 2 + 5 = 8$



5. Yukarıda boş bırakılan yere aşağıdakilerden hangisi yazılmalıdır?

- A) 9      B) 7      C) 8

6. Yandaki işlemin sonucu hangisidir?

- A) 10      B) 11      C) 12

7. Aşağıdakilerden hangisi yandaki işlemlerin sonuçlarından birisi değildir?

- A) 14      B) 16      C) 17

8. Aşağıdaki işlemlerden hangisinin sonucu yanlıştır?

- A)  $6 + 6 + 5 = 17$   
 B)  $6 + 3 + 5 = 15$   
 C)  $5 + 6 + 7 = 8$


$$\begin{array}{r} 5 \\ + 3 \\ \hline \dots \end{array} \rightarrow \begin{array}{r} \dots \\ + 6 \\ \hline \dots \end{array} \rightarrow \begin{array}{r} \dots \\ + 3 \\ \hline \dots \end{array}$$

9. Yukarıdaki işlemin sonucu aşağıdakilerden hangisidir?

- A) 17      B) 18      C) 19

10.  $\begin{array}{r} 9 \\ 0 \\ + 4 \\ \hline \dots \end{array}$  Yandaki işlemin sonucu hangisidir?

- A) 10      B) 12      C) 13



11. Yandaki toplama işleminde verilmeyen sayı hangisidir?

- A) 4      B) 5      C) 6

12.  $9 + \dots = 16$  İşleminde verilmeyen hangisidir?

- A) 6      B) 7      C) 8

13.  $\begin{array}{r} \dots \\ + 2 \\ \hline 7 \end{array}$  Yandaki işlemde verilmeyen hangisidir?

- A) 3      B) 4      C) 5

14.  $\begin{array}{r} \dots \\ + 3 \\ \hline 9 \end{array}$  Yandaki işlemde verilmeyen hangisidir?

- A) 6      B) 5      C) 4

15.  $\dots + 6 = 15$

Yukarıdaki işlemde verilmeyen hangisidir?

- A) 10      B) 8      C) 9